

Welche Aufgaben sind richtig?  
Ziehe die Stöpsel bei den falschen Aufgaben heraus!



$$\square + \square = \square$$



$$\square + \square = \square$$

$$\square + \square = \square$$



$$\square + \square = \square$$

$$\square + \square = \square$$


$$\square + \square = \square$$



$$\square + \square = \square$$

$$\square + \square = \square$$





Welche Aufgaben sind richtig?  
Ziehe die Stöpsel bei den falschen Aufgaben heraus!



$$\square - \square = \square$$

$$\square - \square = \square$$

$$\square - \square = \square$$

$$\square - \square = \square$$


$$\square - \square = \square$$

$$\square - \square = \square$$

$$\square - \square = \square$$

$$\square - \square = \square$$





Welche Aufgaben sind richtig?  
Ziehe die Stöpsel bei den falschen Aufgaben heraus!



$$\square + \square = \square$$

$$\square - \square = \square$$

$$\square + \square = \square$$

$$\square - \square = \square$$


$$\square + \square = \square$$

$$\square - \square = \square$$

$$\square + \square = \square$$

$$\square - \square = \square$$





Welche Sätze sind richtig?  
Ziehe die Stöpsel bei den falschen Sätzen heraus!



Ein Vogel kann fliegen.



Ein Rad kann laufen.



Eine Blume ist aus Holz.



Das Messer kann schreiben.



Die Hexen können zaubern.



Ein Riese ist klein.



Die Laterne leuchtet hell.



Ein Fisch kann schwimmen