



# Rechenübungen


Welche Zahlen stehen in den grauen Feldern?


1	2		4						10
11									20
21									


Welche Zahlen werden hier dargestellt?


  
 .....  
 Z E

  
 .....  
 Z E

  
 .....  
 Z E

  
 .....  
 Z E

  
 .....  
 Z E

  
 .....  
 Z E